



ریاضی دوم فصل (۱-۲-۳)
دبستان پسرانه غیر دولتی
امام حسین ع


نام و نام خانوادگی :



۱- با دوکارت عدد دو رقمی بساز.

با عددهای ۸ و ۶ و ۲ عدد دورقمی بساز ؟

۲- بزرگ ترین عدد دورقمی است .



یکان عددی ۷ و دهگان آن ۳ می باشد آن عدد چیست ؟.....

یکان عددی ۹ و دهگان آن ۵ تا کمتر می باشد آن عدد چیست ؟.....

۶ دسته ده تایی منهای دسته ده تایی می شود ۲ دسته ده تایی

۲ دسته ده تایی به اضافه ی دسته ده تایی می شود ۸ دسته ده تایی

$10 + 20 + 10 + 5 = \dots$

$90 - 60 = \dots$

۳- حاصل را به دست آورید

$40 + 10 + 10 + 10 + 5 = \dots$ $70 - 30 = \dots$

$30 + 20 + 4 + 10 + 5 = \dots$ $60 - 20 = \dots$

$10 - 20 - 20 = \dots$

۴- الگوها را ادامه دهید

$5 - 10 - \dots - 25 - \dots$

$8 - 16 - \dots - \dots$

$83 - 85 - 87 - \dots$

-	۵	۳	۲
۷			
۱۳			

+	۳	۴	۵	۶
۵				
۸				

۵- با حروف بنویس.

۸۶	_____
۳۹	_____

$63 \rightarrow \dots$

$77 \rightarrow \dots$

۶- جواب را به صورت تقریبی به دست آورید.

$25 + \dots \rightarrow \dots$

$44 - \dots \rightarrow \dots$

۷- جمع و تفریق ها را با استفاده به صورت فرایندی حل کنید .

۶۸	۴۳
۷۴	۲۳

۸- نام اشکال را بنویس



.....
.....
.....

.....
.....
.....

.....
.....
.....

.....
.....
.....

نام :
گوشه :
ضلع :

۹- تقارن شکل خارا با شابلون بکش




.....

۱۰- شباهت :



تفاوت :

۱۱- به قسمت های مساوی تبدیل کن



۳

۶

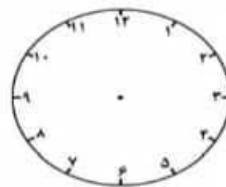
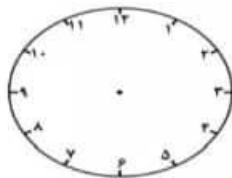
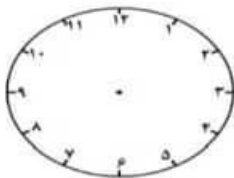
۸

۴

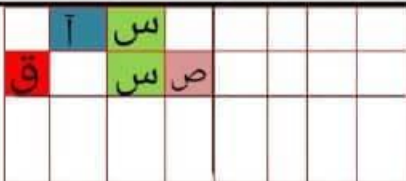
۸:۲۰

۱۲:۴۵

۱۲- ساعت ها را نشان بده (سه ونیم)



۱۳- تقارن دیگر را رنگ کن



خسته نباشید : طاهری